

Roll Number/ रोल नंबर	
Signature of the Candidate अभ्यर्थी का हस्ताक्षर	
Signature of the Invigilator निरीक्षक का हस्ताक्षर	

Written Test/ लिखित परीक्षा

Confidential Code	
-------------------	--

Maximum Marks / अधिकतम अंक : 80**Time/समय : 1½ hours****Instructions / सूचनायें :-**

- Write your roll number in the above box.
उपर्युक्त बॉक्स में अपना रोल नंबर लिखें।
- This booklet contains 22 pages. If your booklet doesn't have 22 pages, get it replaced immediately.
इस पुस्तिका में 22 पृष्ठ हैं। यदि आपकी पुस्तिका में 22 पृष्ठ नहीं हैं, तो इसे तुरंत बदल दें।
- There are 70 multiple choice questions in this paper. Each question carries one mark. Answer in the booklet itself by (✓) marking the most correct answer with blue ink ball pen. There is one essay writing question of 10 marks which you have to answer in the booklet itself in the space provided.
इस पेपर में 70 बहुविकल्पीय प्रश्न हैं। प्रत्येक प्रश्न का उत्तर पुस्तिका में ही (✓) सब से सही उत्तर को नीला स्याही बालपेन से चिह्नित करके दें। इसमें 10 अंकों का एक निबंध लेखन प्रश्न है जिसका समाधान आपको पुस्तिका में ही दिए गए स्थान पर लिखना है।
- There should be no overwriting in marking the answers. **Marks will not be awarded for the answers with over writing.**
उत्तर अंकित करते समय अधिलेखन (over writing) नहीं होना चाहिए। अधिलेखन (over writing) वाले उत्तरों के लिए अंक नहीं दिए जाएंगे।
- If there is any difference between English and Hindi versions of questions, please follow English version of questions only.
यदि अंग्रेजी और हिंदी के प्रश्नों के बीच कोई अंतर है, तो कृपया केवल अंग्रेजी के प्रश्नों का अनुसरण करें।

PART - I (GENERAL AWARENESS)

1. What is the recent decision of Supreme Court on the role of the Governors?

- (a) The Governor can withhold the Bills for an unlimited period
- (b) The Governor must be the harbinger of consensus and resolutions – a catalyst and not an inhibitor
- (c) The Governor has no role in assenting the bills sent to him by the State Govt.
- (d) None

2. P. V. Sindhu is not a brand ambassador for -

- (a) Puma India
- (b) Bank of Baroda
- (c) Tobacco Control
- (d) None

3. What is I.C.C.R ?

- (a) Indian Council for Cultural Relations
- (b) International Council for Cultural Relations
- (c) Inter-state Council for Cultural Relations
- (d) None

4. What is the minimum age for appointment of a Governor (in years)?

- (a) 40
- (b) 35
- (c) 25
- (d) 30

5. What is the role of Sanskrit texts in the context of NEP 2020?

- (a) They are relevant to modern Education
- (b) They are source of ancient wisdom and knowledge that can be integrated into various subjects
- (c) They are outdated and discarded
- (d) They have no relevance to the science.

6. The name of the person who survived in the recent plane crash in Ahmedabad?

- (a) Ramesh Kulkarni
- (b) Ramesh Yadav
- (c) Ramesh Viswash Kumar
- (d) None

7. Who is the Minister of External Affairs of India?

- (a) Shri Rajnath Singh
- (b) Shri Narendra Modi
- (c) Shri Subrahmanyam Jaishankar
- (d) Shri Sivrajsingh Chouhan

भाग - I (सामान्य जागरूकता)

1. राज्यपालों की भूमिका पर सर्वोच्च न्यायालय का हालिया निर्णय क्या है?

- (a) राज्यपाल विधेयक को असीमित अवधि के लिए रोक सकता है
(b) राज्यपाल आम सहमति और संकल्प का एक उत्प्रेरक, और नहीं एक अवरोधक
(c) राज्य सरकार द्वारा उन्हें भेजे गए बिल की मंजूरी देने में राज्यपाल की कोई भूमिका नहीं है
(d) कोई नहीं

2. पी.वी.सिंधु किसकी ब्रांड एंबेसडर नहीं हैं -

- (a) प्यूमा इंडिया
(b) बैंक ऑफ बड़ौदा
(c) तम्बाकू नियंत्रण
(d) कोई नहीं

3. आईसीसीआर (ICCR) क्या है ?

- (a) भारतीय सांस्कृतिक संबंध परिषद
(b) अंतर्राष्ट्रीय सांस्कृतिक संबंध परिषद
(c) अंतरराष्ट्रीय सांस्कृतिक संबंध परिषद
(d) कोई नहीं

4. राज्यपाल की नियुक्ति के लिए न्यूनतम आयु क्या है (वर्षों में)?

- (a) 40
(b) 35
(c) 25
(d) 30

5. एनईपी 2020 के संदर्भ में संस्कृत ग्रन्थों की क्या भूमिका है?

- (a) वे आधुनिक शिक्षा के लिए प्रासंगिक हैं
(b) वे बुद्धि और ज्ञान के प्राचीन स्रोत हैं जिसे विभिन्न विषयों के साथ एकीकृत किया जा सकता है
(c) वे पुराने और त्याग दिए गए हैं
(d) उनका विज्ञान के साथ कोई सम्बन्ध नहीं है

6. हाल ही में अहमदाबाद में हुए विमान दुर्घटना में जीवित बचे व्यक्ति का नाम क्या है?

- (a) रमेश कुलकर्णी
(b) रमेश यादव
(c) रमेश विश्वास कुमार
(d) कोई नहीं

7. भारत के विदेश मंत्री कौन हैं?

- (a) श्री राजनाथ सिंह
(b) श्री नरेंद्र मोदी
(c) श्री सुब्रह्मण्यम जयशंकर
(d) श्री शिवराजसिंह चौहान

8. What is the name of the new postal service launched by the Department of Posts for delivery of educational material?

- (a) Shiksha Mail
- (b) Gyan Post
- (c) Bharat Book Post
- (d) None

9. The difference between GDP and NDP is

- (a) Government Revenue
- (b) Net indirect tax
- (c) Net capital formation
- (d) None

10. Which temple is known as 'Black Pagoda'?

- (a) Saibaba Temple Shirdi
- (b) Lord Venkateswara Temple, Tirupati
- (c) Brihadeeshwara Temple, Tanjore
- (d) Sun Temple, Konark

11. Under NEP 2020, the Holistic Progress Card is introduced to

- (a) Track exam score only
- (b) Replace final report cards
- (c) Reflect overall development of student
- (d) Evaluate teachers

12. Which bridge connects Dibrugarh in Assam to Pasighat in Arunachal Pradesh?

- (a) Naini
- (b) Bogibeel
- (c) Coronation
- (d) Pamban

13. Who is called the prophet of new India?

- (a) Dayanand Sarawati
- (b) Raja Ramohan Roy
- (c) Shri Ramakrishna Paramahansa
- (d) Swami Vivekananda

14. Harihara and Bukka founded which Indian kingdom?

- (a) Maratha
- (b) Pallava
- (c) Chola
- (d) Vijayanagara

15. Pedagogy is a science which deals with

- (a) Teaching
- (b) Human mind
- (c) Language
- (d) None

PART - II (NUMERICAL ABILITY)

16. Which number is divisible exactly by 11, 13, and 7 ?

- (a) 624624
- (b) 624642
- (c) 626646
- (d) None

17. Simplify and find the value

$$\frac{3 \div \{5 - 5 \div (6 - 7) \times 8 + 9\}}{4 + 4 \times 4 \div 4 \text{ of } 4}$$

- (a) $\frac{1}{45}$
- (b) $\frac{1}{18}$
- (c) $\frac{1}{90}$
- (d) None

8. डाक विभाग द्वारा शैक्षिक सामग्री वितरण के लिए शुरू की गई नई डाक सेवा का नाम क्या है?
- (a) शिक्षा मेल (b) ज्ञान पोस्ट
(c) भारत बुक पोस्ट (d) कोई नहीं
9. जीडीपी और एनडीपी के बीच अंतर है
- (a) सरकारी राजस्व (b) शुद्ध अप्रत्यक्ष कर
(c) शुद्ध पूंजी निर्माण (d) कोई नहीं
10. किस मंदिर को 'ब्लैक पैगोडा' के नाम से जाना जाता है?
- (a) साईबाबा मंदिर शिरडी (b) भगवान वेंकटेश्वर मंदिर तिरुपति
(c) बृहदेश्वरालयम, तंजौर (d) सूर्य मंदिर, कोणार्क
11. एनईपी 2020 के तहत समग्र प्रगति कार्ड क्यों पेश किया गया है
- (a) केवल परीक्षा स्कोर ट्रैक करने (b) अंतिम रिपोर्ट कार्ड बदलने
(c) छात्र के समग्र विकास को प्रतिबिंबित करने (d) शिक्षकों का मूल्यांकन करने
12. कौन सा पुल असम के डिब्रूगढ़ को अरुणाचल प्रदेश के पासीघाट से जोड़ता है?
- (a) नैनी (b) बोगीबील
(c) करोनेशन (d) पंवन
13. भारत का नये पैगम्बर किसे कहा जाता है?
- (a) दयानंद सरस्वती (b) राजा राममोहन राय
(c) श्री रामकृष्ण परमहंस (d) स्वामी विवेकानन्द
14. हरिहर और बुक्का ने किस भारतीय साम्राज्य की स्थापना की?
- (a) मराठा (b) पल्लव
(c) चोल (d) विजयनगर
15. शिक्षाशास्त्र एक विज्ञान है जो निम्न से संबंधित है
- (a) शिक्षण (b) मानव मन
(c) भाषा (d) कोई नहीं

भाग - II (संख्यात्मक योग्यता)

- 16 कौन सी संख्या 11, 13 और 7 से पूर्णतः विभाज्य है?

- (a) 624624 (b) 624642
(c) 626646 (d) कोई नहीं

17. सरल करें और मान ज्ञात करें

$$\frac{3 \div \{5 - 5 \div (6 - 7) \times 8 + 9\}}{4 + 4 \times 4 \div 4 \text{ of } 4}$$

- (b) $\frac{1}{45}$ (b) $\frac{1}{18}$
(c) $\frac{1}{90}$ (d) कोई नहीं

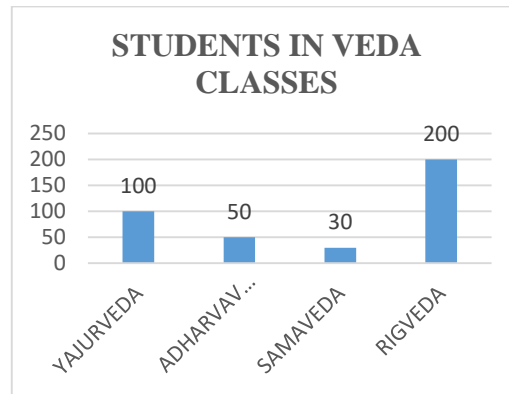
18. The difference between cost price and selling price is Rs.221. If profit is 17%, what is the selling price?
- (a) 1521 (b) 1721
(c) 1621 (d) None
19. The average weight of 45 students in a Veda class is 52 kg. 5 students left the class. Their average weight is 48 kg. 5 new students joined. Their average weight is 54 kg. What is the new average weight of the new Veda class?
- (a) 52 kg (b) 53 kg
(c) 54 kg (d) None
20. The sum of the salaries of 'A' and 'B' together is Rs.45000/-. 'A' spends 85% of his salary. 'B' spends 70% of his salary. Their savings are same. What is 'B's salary in rupees?
- (a) 25000 (b) 18000
(c) 15000 (d) None
21. Four cubes each with an edge of 6 cms are joined end to end. What is the total surface area of the resulting cuboid?
- (a) 450 cm^2 (b) 475 cm^2
(c) 425 cm^2 (d) None
22. In what proportion must sugar @ Rs.13-40 ps per kg. be mixed with sugar @ Rs.13-65 ps per kg. so that, the mixture be worth Rs.13-20 ps per kg.
- (a) 9 : 4 (b) 4 : 9
(c) 67 : 66 (d) None
23. A man can row 27 km. with the stream and 15 km. against the stream taking four hours each time. Find the rate of speed of the man per hour in still water and the speed of the stream.
- (a) Man $5\frac{1}{4}$ kmph., Stream 1.5 kmph. (b) Stream $5\frac{1}{4}$ kmph., Man 1.5 kmph.
(c) Man 1 kmph., Stream 5 kmph. (d) None
24. A boy standing by the side of a railway track finds that an up train crosses him in 8 seconds and a down train crosses him in 20 seconds. How long (in seconds) will the two trains take to cross each other?
- (a) 15 (b) 13
(c) $13\frac{1}{3}$ (d) None
25. Tap 'P' can fill a tank in 24 hours. Tap 'Q' can fill the same tank in 18 hours. Both the taps are opened at 11 a.m. At what time tap 'P' be closed, so that the tank is full exactly at 2 a.m?
- (a) 5 p.m (b) 2 p.m
(c) 4 p.m (d) None

18. क्रय मूल्य और विक्रय मूल्य के बीच का अंतर 221 रुपये है। यदि लाभ 17% है, तो विक्रय मूल्य क्या है?
- (a) 1521 (b) 1721
(c) 1621 (d) कोई नहीं
19. वेद की एक कक्षा में 45 छात्रों का औसत वजन 52 किलोग्राम है। 5 छात्रों ने कक्षा छोड़ दी। उनका औसत वजन 48 किलोग्राम है। 5 नए छात्र शामिल हुए। उनका औसत वजन 54 किलोग्राम है। नई वेद कक्षा का नया औसत वजन क्या है?
- (a) 52 किग्रा (b) 53 किग्रा
(c) 54 किग्रा (d) कोई नहीं
20. 'A' और 'B' के वेतन का योग 45000/- रुपये है। 'A' अपने वेतन का 85% खर्च करता है। 'B' अपने वेतन का 70% खर्च करता है। उनकी बचत समान है। 'B' का वेतन रुपये में कितना है?
- (a) 25000 (b) 18000
(c) 15000 (d) कोई नहीं
21. 6 सेमी किनारे वाले चार घनों को एक दूसरे से जोड़ दिया गया है। परिणामी घनाभ का कुल पृष्ठीय क्षेत्रफल क्या है?
- (a) 450 सेमी² (b) 475 सेमी²
(c) 425 सेमी² (d) कोई नहीं
22. ₹.13-40 प्रति किलोग्राम वाली चीनी को ₹.13-65 प्रति किलोग्राम वाली चीनी के साथ किस अनुपात में मिलाया जाए कि मिश्रण का मूल्य 13-20 रुपये प्रति किलोग्राम हो।
- (a) 9 : 4 (b) 4 : 9
(c) 67 : 66 (d) कोई नहीं
23. एक व्यक्ति धारा के अनुकूल 27 किमी. तथा धारा के प्रतिकूल 15 किमी. नाव चलाने में हर बार चार घंटे का समय लेता है। स्थिर जल में व्यक्ति की प्रति घंटे की गति तथा धारा की गति की दर ज्ञात कीजिए।
- (a) मनुष्य 5 $\frac{1}{4}$ किमी प्रति घंटा, धारा 1.5 किमी प्रति घंटा। (b) धारा 5 $\frac{1}{4}$ किमी प्रति घंटा, मनुष्य 1.5 किमी प्रति घंटा।
(c) मनुष्य 1 किमी प्रति घंटा, धारा 5 किमी प्रति घंटा। (d) कोई नहीं
24. रेलवे ट्रैक के किनारे खड़े एक लड़के को पता चलता है कि एक अप ट्रेन उसे 8 सेकंड में पार करती है और एक डाउन ट्रेन उसे 20 सेकंड में पार करती है। दोनों ट्रेनों को एक-दूसरे को पार करने में कितना समय (सेकंड में) लगेगा?
- (a) 15 (b) 13
(c) 13¹ / 3 (d) कोई नहीं
25. नल 'P' एक टैंक को 24 घंटे में भर सकता है। नल 'Q' उसी टैंक को 18 घंटे में भर सकता है। दोनों नल सुबह 11 बजे खोले जाते हैं। नल 'P' को किस समय बंद किया जाना चाहिए, ताकि टैंक ठीक 2 बजे भर जाए ?
- (a) सायं 5 बजे (b) सायं 2 बजे
(c) अपराह्न 4 बजे (d) कोई नहीं

26. Two equal amounts were invested, one @ 4% and the other @ 4.5%. At the end of 7 years, the simple interest received from the latter exceeded to that received from the former by Rs.31-50 ps. Each sum invested was (in rupees)

- (a) 700 (b) 800
(c) 900 (d) None

27-28. The bar graph shows the number of students studying different Vedas – Rigveda (R), Yajurveda (Y), Atharvaveda (a) and Samaveda (S). Study the graph and answer the questions-



27. By what percent the students of Samaveda are lower than the students of Atharvaveda?

- (a) 66.67% (b) 40%
(c) 15% (d) None

28. If the 60% of the students are college students, how many college students study Yajurveda and Rigveda?

- (a) 120 (b) 300
(c) 180 (d) None

29-30. Refer the following table and answer the questions given below –

CLASS	STUDENTS	
	BOYS	GIRLS
Sanskrit	40	75
Veda	100	25
Ganitam	60	50

29. What is the percentage of girls in Veda to the total number of students?

- (a) 50 / 7% (b) 7%
(c) 10% (d) None

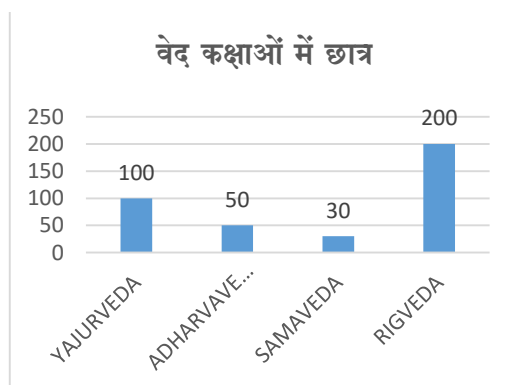
30. What is the percentage of boys in Sanskrit to the total number of students?

- (a) 12% (b) 15%
(c) 5% (d) None

26. दो बराबर राशियों का निवेश किया गया, एक 4% पर तथा दूसरी 4.5% पर। 7 वर्ष के अंत में, बाद वाली राशि से प्राप्त साधारण ब्याज, पहली राशि से प्राप्त साधारण ब्याज से 31-50 रुपये अधिक था। निवेश की गई प्रत्येक राशि (रुपये में) थी

- (a) 700 (b) 800
(c) 900 (d) कोई नहीं

27-28. बार ग्राफ विभिन्न वेदों - ऋग्वेद, यजुर्वेद, अथर्ववेद, और सामवेद का अध्ययन करने वाले छात्रों की संख्या दर्शाता है। ग्राफ का अध्ययन करें और प्रश्नों के उत्तर दें-



27. सामवेद के विद्यार्थियों की संख्या अथर्ववेद के विद्यार्थियों की संख्या से कितने प्रतिशत कम है ?

- (a) 66.67% (b) 40%
(c) 15% (d) कोई नहीं

28. यदि 60% छात्र कॉलेज के छात्र हैं, कितने कॉलेज के छात्र यजुर्वेद और ऋग्वेद का अध्ययन करते हैं ?

- (a) 120 (b) 300
(c) 180 (d) कोई नहीं

29-30. निम्नलिखित तालिका का अवलोकन करें और नीचे दिए गए प्रश्नों के उत्तर दें -

	छात्रों	
कक्षा	लड़के	लड़कियाँ
संस्कृत	40	75
वेद	100	25
गणितम्	60	50

29. वेद में कुल विद्यार्थियों में लड़कियों का प्रतिशत कितना है?

- (a) 50/7 % (b) 7%
(c) 10% (d) कोई नहीं

30. संस्कृत में कुल विद्यार्थियों में लड़कों का प्रतिशत कितना है?

- (a) 12% (b) 15%
(c) 5% (d) कोई नहीं

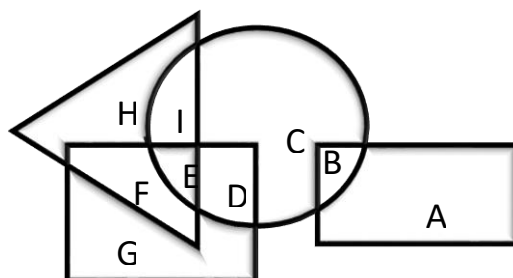
PART-III (REASONING ABILITY)

31 Identify the diagram that best represents the relationship among the given classes.

Professionals, Chartered accountants, Females



32. In the following figure, rectangle represents plumbers, circle represents essayists, triangle represents drivers and square represents Asians. Which set of letters represents Asians who are essayists?



(a) EDB

(b) IED

(c) ED

(d) FED

33. Sita and Ram both start from a point towards North. Sita turns to left after walking 10 km. Ram turns to right after walking the same distance. Sita waits for some time and then walks another 5 km. whereas Ram walks only 3 km. They both then return to their respective south and walk 15 km. forward. How far is Sita from Ram.

(a) 15 km

(b) 10 km

(c) 12 km

(d) 8 km

34. What is the wrong number in the series?

48, 24, 28, 36, 72, 180, 540

(a) 48

(b) 28

(c) 540

(d) 180

35. Arrange the following words in a logical and meaningful order.

(1) Pupa (2) Death (3) Larva (4) Butterfly (5) Egg

(a) 5,3,1,2,4

(b) 5,3,1,4,2

(c) 3,1,2,4,5

(d) 3,1,4,2,5

36. Which is the different word.

(a) NITK

(b) TIK

(c) TIH

(d) ITS

37. Which pair is similar to the given pair.

Gossip : Exaggeration

(a) Girl : Sister

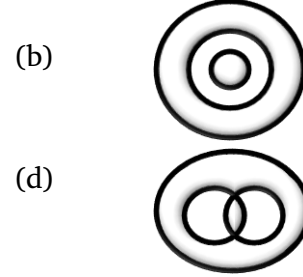
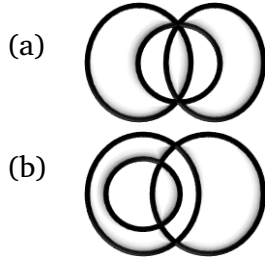
(b) Dish : Food

(c) Smoke : Fire

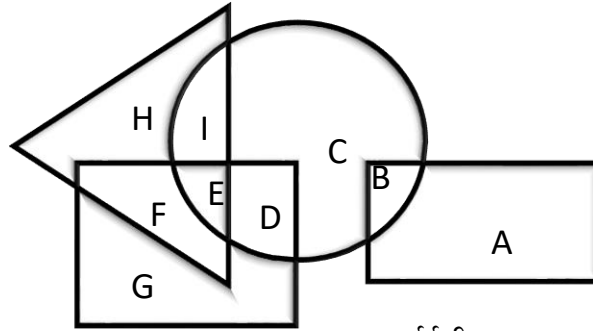
(d) Climb : Track

भाग-III (तर्क क्षमता)

31. दिए गए वर्गों के बीच संबंध को सबसे बेहतर तरीके से दर्शाने वाले आरेख को पहचानिए कक्षाएं, पेशेवर, चार्टर्ड अकाउंटेंट, महिलाएं



32. निम्नलिखित आकृति में, आयत प्लंबर को दर्शाता है, वृत्त निबंधकारों को दर्शाता है, त्रिभुज ड्राइवरों को दर्शाता है और वर्ग एशियाई लोगों को दर्शाता है। अक्षरों का कौन सा समूह उन एशियाई लोगों को दर्शाता है जो निबंधकार हैं?



- (a) ईडीबी (b) आईईडी
(c) ईडी (d) एफईडी

33. सीता और राम दोनों उत्तर दिशा की ओर एक बिंदु से चलना शुरू करते हैं। सीता 10 किमी चलने के बाद बाईं ओर मुड़ती है। राम समान दूरी चलने के बाद दाईं ओर मुड़ता है। सीता कुछ समय तक इंतजार करती है और फिर 5 किमी चलती है जबकि राम केवल 3 किमी चलता है। वे दोनों फिर अपने-अपने दक्षिण की ओर मुड़ते हैं और 15 किमी आगे चलते हैं। सीता राम से कितनी दूरी पर है?

- (a) 15 किमी (b) 10 किमी
(c) 12 किमी (d) 8 किमी

34. श्रृंखला में गलत संख्या क्या है?

48, 24, 28, 36, 72, 180, 540

- (a) 48 (b) 28 (c) 540 (d) 180

35. निम्नलिखित शब्दों को तार्किक और सार्थक क्रम में व्यवस्थित करें।

(1) प्यूपा (2) मृत्यु (3) लार्वा (4) तितली (5) अंडा

- (a) 5,3,1,2,4 (b) 5,3,1,4,2
(c) 3,1,2,4,5 (d) 3,1,4,2,5

36. कौन सा शब्द अलग है?

- (a) NITIK (b) KIT (c) TIH (d) ITS

37. कौन सी जोड़ी दी गई जोड़ी के समान है।

Gossip : Exaggeration

- (a) लड़की : बहन (Girl: Sister) (b) पकवान : भोजन (Dish:Food)
(c) धुआँ : आग (Smoke:Fire) (d) चढ़ाई : ट्रैक (Climb:Track)

38. What should be there in the place of ‘?’

601 : 584 :: 329 : ?

- (a) 307 (b) 923
(c) 312 (d) 485

39. ‘K’ is the brother of ‘X’. ‘Z’ is the son of ‘X’. ‘P’ is the daughter of ‘K’. ‘P’ is married to ‘N’. ‘G’ and ‘X’ are sisters to one another. How ‘G’ is related to ‘Z’?

- (a) Sister (b) Aunt
(c) Mother (d) Mother-in-law

40-42 Read the given data and answer the following questions –

There are seven companies – A,B,C,D,E,F and G. There are seven applicants – Harish, Sameer, Nilesh, Shailaja, Nithika, Lakshman, Sujatha. Seven different panels – I to VII. Interviewed them for different companies i.e. A to G.

Nilesh is interviewed by Panel – IV for Company ‘A’.

Sameer is interviewed by Panel – III, but not for Company ‘C’ and ‘D’.

Harish is interviewed for Company ‘B’ but not by panel I or II.

Panel VII has conducted interview for company ‘F’.

Shailaja is interviewed by panel – I, but not for company ‘C’.

Panel-II did not interview Lakshman.

40. Shailaja is interviewed for which company ?

- (a) A (b) G
(c) F (d) D

41. Panel-V has interviewed whom?

- (a) Harish (b) Nithika
(c) Lakshman (d) Sujatha

42. Who among the following is interviewed for company ‘G’?

- (a) Lakshman (b) Nilesh
(c) Harish (d) None

43. Read the given data and answer the question given –

Many students of the local school fell ill for the fourth time in a row in the last six months after consuming food prepared by the school canteen.

Course of action -

(I) The school management should immediately terminate the contract of the canteen and asked for compensation.

(II) The school management should advise all the students not to eat food from the canteen.

(III) The contractor of the canteen should immediately be arrested for negligence.

What is the best course of action among the following?

- (a) Only ‘II’ (b) Only ‘III’
(c) Only ‘I’ and ‘II’ (d) Only ‘II’ and ‘III’

38. '?' के स्थान पर क्या होना चाहिए?

601 : 584 :: 329 : ?

- (a) 307 (b) 923
(c) 312 (d) 485

39. 'K', 'X' का भाई है। 'Z', 'X' का बेटा है। 'P', 'K' की बेटी है। 'P' की शादी 'N' से हुई है। 'G' और 'X' एक दूसरे की बहनें हैं। 'G' का 'Z' से क्या संबंध है?

- (a) बहन (b) चाची
(c) माँ (d) सास

40-42 दिए गए आंकड़ों को पढ़ें और निम्नलिखित प्रश्नों के उत्तर दें -

सात कंपनियाँ हैं - A, B, C, D, E, F और G. सात आवेदक हैं - हरीश, समीर, नीलेश, शैलजा, नितिका, लक्ष्मण, सुजाता. सात अलग-अलग पैनल - I से VII अलग-अलग कंपनियों यानी A से G के लिए उन आवेदकों का साक्षात्कार लिया गया.

नीलेश का साक्षात्कार कंपनी 'ए' के लिए पैनल-IV द्वारा लिया गया है।

समीर का साक्षात्कार पैनल-III द्वारा लिया गया है, लेकिन कंपनी 'सी' और 'डी' के लिए नहीं।

हरीश का साक्षात्कार कंपनी 'बी' के लिए हुआ है, लेकिन पैनल I या II द्वारा नहीं।

पैनल VII ने कंपनी 'एफ' के लिए साक्षात्कार आयोजित किया है।

शैलजा का साक्षात्कार पैनल-I द्वारा लिया गया है, लेकिन कंपनी 'सी' के लिए नहीं।

पैनल- II ने लक्ष्मण का साक्षात्कार नहीं लिया।

40. शैलजा का साक्षात्कार किस कंपनी के लिए हुआ है?

- (a) ए (b) जी
(c) एफ (d) डी

41. पैनल- V ने किसका साक्षात्कार लिया है?

- (a) हरीश (b) नितिका
(c) लक्ष्मण (d) सुजाता

42. निम्नलिखित में से किसे कंपनी 'G' के लिए साक्षात्कार दिया गया है?

- (a) लक्ष्मण (b) नीलेश
(c) हरीश (d) कोई नहीं

43. दी गई जानकारी को पढ़िए और दिए गए प्रश्न का उत्तर दीजिए -

स्थानीय स्कूल के कई छात्र स्कूल कैंटीन में तैयार किये गए भोजन खाने के बाद पिछले छह महीनों में लगातार चौथी बार बीमार पड़ गए। कार्रवाई के दौरान -

(I) स्कूल प्रबंधन को कैंटीन का अनुबंध तुरंत समाप्त करना चाहिए और मुआवजे की मांग करनी चाहिए।

(II) स्कूल प्रबंधन को सभी छात्रों को कैंटीन से खाना न खाने की सलाह देनी चाहिए।

(III) कैंटीन के ठेकेदार को लापरवाही के लिए तुरंत गिरफ्तार किया जाना चाहिए।

निम्नलिखित में से सर्वोत्तम कार्यवाही क्या है?

- (a) केवल 'II' (b) केवल 'III'
(c) केवल 'I' और 'II' (d) केवल 'II' और 'III'

44. Sneha correctly remembers that her father's birthday is before 16th June. But, after 11th June. Her younger brother correctly remembers that their father's birthday is after 13th June, but, before 18th June. Her elder brother remembers that their father's birthday is on an even date. What is their father's birthday?

- | | |
|----------------------|----------------------|
| (a) 16 th | (b) 12 th |
| (c) 14 th | (d) None |

45. The constable has been recommended a suitable reward by his superior in recognition of his sincere duty and busting of several gangs of criminals, actively involved in the loot and incidents of pick-pocketing. Which of the following can be a possible assumption of the above statement?

- (a) The superior is certain that the recommendation would be denied.
(b) The superior wants to set an example for his other juniors by recommending the reward.
(c) Rewards recognizing the sincerity and Accomplishment of police men are given
(d) None

PART - IV

(General knowledge on Veda, Sanskrit and Indian Knowledge System)

46. Who is Sanskrit grammarian?

- | | |
|-------------|-------------|
| (a) Bharavi | (b) Panini |
| (c) Vyasa | (d) Valmiki |

47. Mahabharata contains -

- | | |
|-----------|------------|
| (a) Varga | (b) Kandas |
| (c) Sarga | (d) Parvas |

48. Ravana was a devotee of -

- | | |
|------------|------------|
| (a) Vishnu | (b) Brahma |
| (c) Narada | (d) Siva |

49. Which one is not an Upanishad

- | | |
|----------|-----------|
| (a) Isha | (b) Katha |
| (c) Kena | (d) None |

50. How many Vedangas are there?

- | | |
|-------|-------|
| (a) 3 | (b) 2 |
| (c) 6 | (d) 4 |

51. 'Shaunakiya sakha' belongs to

- | | |
|--------------|-----------------|
| (a) Rigveda | (b) Atharvaveda |
| (c) Samaveda | (d) Yajurveda |

52. What is 'Brahmana' -

- | | |
|---------------------------------|-------------------------------|
| (a) Collection of Vedic Mantras | (b) Explanation of Meditation |
| (c) Commentary on Rituals | (d) None |

44. स्नेहा को ठीक से याद है कि उसके पिता का जन्मदिन 16 जून से पहले है लेकिन 11 जून के बाद । उसके छोटे भाई को ठीक से याद है कि उनके पिता का जन्मदिन 13 जून के बाद है, लेकिन, 18 जून से पहले । उसके बड़े भाई को याद है कि उनके पिता का जन्मदिन सम तारीख को है । उनके पिता का जन्मदिन क्या है?
- (a) 16 वां (b) 12 वां
(c) 14 वां (d) कोई नहीं
45. कांस्टेबल को उसके वरिष्ठ अधिकारी द्वारा उसकी ईमानदारी से की गई ड्यूटी और लूटपाट तथा जेबकतरी की घटनाओं में सक्रिय रूप से शामिल अपराधियों के कई गिरोहों का भंडाफोड़ करने के लिए उपयुक्त पुरस्कार की संस्तुति की गई है । उपरोक्त कथन की निम्नलिखित में से कौन-सी संभावित धारणा हो सकती है?
- (a) वरिष्ठ को विश्वास है कि सिफारिश को अस्वीकार कर दिया जाएगा ।
(b) वरिष्ठ चाहता है कि अपने लिए एक उदाहरण स्थापित करें अन्य जूनियर्स को पुरस्कार की सिफारिश करके ।
(c) पुलिस कर्मियों की ईमानदारी को और उपलब्धियों की मान्यता देते हुए पुरस्कार
(d) कोई नहीं

भाग - IV

(वेद, संस्कृत और भारतीय ज्ञान प्रणाली पर सामान्य ज्ञान)

46. संस्कृत व्याकरणाचार्य कौन है?
- (a) भारवि (b) पाणिनि
(c) व्यास (d) वाल्मीकि
47. महाभारत में निम्नलिखित शामिल है -
- (a) वर्ग (b) कांड
(c) सर्ग (d) पर्व
48. रावण किसका भक्त था -
- (a) विष्णु (b) ब्रह्मा
(c) नारद (d) शिव
49. कौन सा उपनिषद् नहीं है
- (a) ईशा (b) कंठ
(c) केना (d) कोई नहीं
50. वेदांग कितने हैं?
- (a) 3 (b) 2
(c) 6 (d) 4
51. ' शौनकीय ' शाखा ' किस से संबद्ध है -
- (a) ऋग्वेद (b) अथर्ववेद
(c) सामवेद (d) यजुर्वेद
52. 'ब्राह्मण' क्या है ?
- (a) वैदिक मंत्रों का संग्रह (b) ध्यान की व्याख्या
(c) कर्मकांड पर टिप्पणी (d) कोई नहीं

53. is the moto of Indian Navy

- | | |
|-------------------------|--------------------|
| (a) Satyameva Jayate | (b) Sam No Varunah |
| (c) Aharnisham Sevamahe | (d) None |

54. How many Mandalas are there in Rigveda?

- | | |
|--------|---------|
| (a) 12 | (b) 10 |
| (c) 11 | (d) 108 |

55. This is not one of the characteristics of Puranas -

- | | |
|----------------|-----------|
| (a) Sarga | (b) Vamsa |
| (c) Manvantara | (d) None |

PART - V

(LANGUAGE, COMPREHENSION – ENGLISH AND HINDI)

56. ‘No one can write as neat as he does’ – Correct this sentence.

- | | |
|---|---|
| (a) No one could write as neat as he does | (b) No one did write as neat as he does |
| (c) No one can write as neatly as he does | (d) none |

57. ‘I am playing ... Tennis’ – Supply the correct word in the blank

- | | |
|---------|----------|
| (a) a | (b) an |
| (c) the | (d) none |

58. “He was sitting ... Ramesh” – Fill up the blank with a proper word -

- | | |
|-------------|------------|
| (a) besides | (b) beside |
| (c) at | (d) none |

59. ‘He is too stupid to be a teacher’ – This can be rewritten without changing the meaning as-

- | | |
|---|--------------------------------|
| (a) He is so stupid that he cannot be a teacher | (b) He is too stupid a teacher |
| (c) He was not stupid to be a teacher | (d) none |

60. What is the synonym of the word ‘MONOTONOUS’

- | | |
|---------------|-------------|
| (a) Mutual | (b) Mollify |
| (c) Insurgent | (d) none |

61. What is the antonym of the word ‘SHREWD’

- | | |
|------------|-------------|
| (a) Simple | (b) Cunning |
| (c) Smart | (d) none |

62. ‘Do not insult the weak’ – This can be rewritten without changing the meaning as -

- | | |
|-------------------------------------|----------------------------------|
| (a) The weak are not to be insulted | (b) Let the weak be not insulted |
| (c) The weak are insulted | (d) none |

53. भारतीय नौ सेना का आदर्श वाक्य है
(a) सत्यमेव जयते (b) शं नो वरुणः
(c) अहर्निशं सेवामहे (d) कोई नहीं
54. ऋग्वेद में कितने मंडल हैं?
(a) 12 (b) 10
(c) 11 (d) 108
55. यह पुराणों की विशेषताओं में से एक नहीं है -
(a) सर्ग (b) वंश
(c) मन्वन्तर (d) कोई नहीं

भाग - V

(भाषा, समझ - अंग्रेजी और हिंदी)

56. 'No one can write as neat as he does' – Correct this sentence.
(a) No one could write as neat as he does (b) No one did write as neat as he does
(c) No one can write as neatly as he does (d) none
57. 'I am playing ... Tennis' – Supply the correct word in the blank
(a) a (b) an
(c) the (d) none
58. "He was sitting ... Ramesh" – Fill up the blank with a proper word -
(a) besides (b) beside
(c) at (d) none
59. 'He is too stupid to be a teacher' – This can be rewritten without changing the meaning as-
(a) He is so stupid that he cannot be a teacher (b) He is too stupid a teacher
(c) He was not stupid to be a teacher (d) none
60. What is the synonym of the word 'MONOTONOUS'
(a) Mutual (b) Mollify
(c) Insurgent (d) none
61. What is the antonym of the word 'SHREWD'
(a) Simple (b) Cunning
(c) Smart (d) none
62. 'Do not insult the weak' – This can be rewritten without changing the meaning as -
(a) The weak are not to be insulted (b) Let the weak be not insulted
(c) The weak are insulted (d) none

63. 'He is greater than me' – This can be rewritten without changing the meaning as -

- | | |
|------------------------------|------------------------------|
| (a) He is not greater than I | (b) I am not so great as him |
| (c) I am greater than him | (d) none |

64. इन में से कौन सा शब्द समास का उदाहरण है?

- | | |
|-----------|-----------|
| (a) असम्य | (b) सियार |
| (c) परिषद | (d) सहारा |

65. करण कारक का चिह्न क्या है?

- | | |
|--------|--------------|
| (a) का | (b) से |
| (c) ने | (d) कोई नहीं |

66. यह अलंकार नहीं है।

- | | |
|-----------------|--------------|
| (a) उपमा | (b) रूपक |
| (c) उत्प्रेक्षा | (d) कोई नहीं |

67. 'बारह बरस पीछे घूरे के भी दिन फिरते हैं' _____ इस लोकोक्ति का अर्थ

- | | |
|--|----------------|
| (a) एक न एक दिन अच्छे दिन आ ही जाते हैं। | (b) सही निर्णय |
| (c) (a) और (b) | (d) कोई नहीं |

68. 'इरावती' उपन्यास का लेखक

- | | |
|-------------------|---------------------------|
| (a) जयशंकर प्रसाद | (b) हजारी प्रसाद द्विवेदी |
| (c) जायसी | (d) प्रेमचन्द |

69. पर्यायवाची शब्द क्या है?

- | | |
|-------------------------|-----------------------|
| (a) सत्य, जल, धर्म | (b) कारण, करण, क्रिया |
| (c) रहित, दीन, उद्देश्य | (d) जलज, अम्बुज, नीरज |

70. हिरण शब्द का बहुवचन

- | | |
|------------|--------------|
| (a) हिरण | (b) हिरणे |
| (c) हिरणें | (d) हिरणियों |

63. 'He is greater than me' – This can be rewritten without changing the meaning as -

- | | |
|------------------------------|------------------------------|
| (a) He is not greater than I | (b) I am not so great as him |
| (c) I am greater than him | (d) none |

64. इन में से कौन सा शब्द समास का उदाहरण है?

- | | |
|-----------|-----------|
| (a) असम्य | (b) सियार |
| (c) परिषद | (d) सहारा |

65. करण कारक का चिह्न क्या है?

- | | |
|--------|--------------|
| (a) का | (b) से |
| (c) ने | (d) कोई नहीं |

66. यह अलंकार नहीं है।

- | | |
|-----------------|--------------|
| (a) उपमा | (b) रूपक |
| (c) उत्प्रेक्षा | (d) कोई नहीं |

67. 'बारह बरस पीछे घूरे के भी दिन फिरते हैं' _____ इस लोकोक्ति का अर्थ

- | | |
|--|----------------|
| (a) एक न एक दिन अच्छे दिन आ ही जाते हैं। | (b) सही निर्णय |
| (c) (a) और (b) | (d) कोई नहीं |

68. 'इरावती' उपन्यास का लेखक

- | | |
|-------------------|---------------------------|
| (a) जयशंकर प्रसाद | (b) हजारी प्रसाद द्विवेदी |
| (c) जायसी | (d) प्रेमचन्द |

69. पर्यायवाची शब्द क्या है?

- | | |
|-------------------------|-----------------------|
| (a) सत्य, जल, धर्म | (b) कारण, करण, क्रिया |
| (c) रहित, दीन, उद्देश्य | (d) जलज, अम्बुज, नीरज |

70. हिरण शब्द का बहुवचन

- | | |
|------------|--------------|
| (a) हिरण | (b) हिरणे |
| (c) हिरणें | (d) हिरणियों |

PART/भाग -VI (Essay writing/ निबंध लेखन) Marks/अंक - 10

Write an essay on any one of the following topics not exceeding 100 words either in English (Roman Script) or in Hindi (Devanagari Script), according to your choice.

निम्नलिखित में से किसी एक विषय पर अपनी पसंद के अनुसार अंग्रेजी (रोमन लिपि) या हिंदी (देवनागरी लिपि) में 100 शब्दों से सीमित निबंध लिखें।

- 1) 'Sanskrit literature is the storehouse of valuable knowledge' – what are your views?
'संस्कृत वाङ्मय बहुमूल्य ज्ञान का भंडार है' - आपके क्या विचार हैं?
- 2) A challenging experience that taught you a valuable lesson.
एक चुनौतीपूर्ण अनुभव जिसने आपको एक मूल्यवान सबक सिखाया।
- 3) 'Viksit Bharat 2047/ 'विकसित भारत' 2047.

For Rough Work